

**Задания для участников 7 класса**

**Инструкция по выполнению работы**

Время, отведенное на выполнение заданий обоих туров – 90 минут

Максимальное количество баллов за оба тура – 50.

Внимательно прочитайте каждое задание.

Ответ записывайте разборчиво.

Примечание. Не разрешается пользоваться школьными атласами  
и другими источниками информации.

Шифр ГЕО 56

245

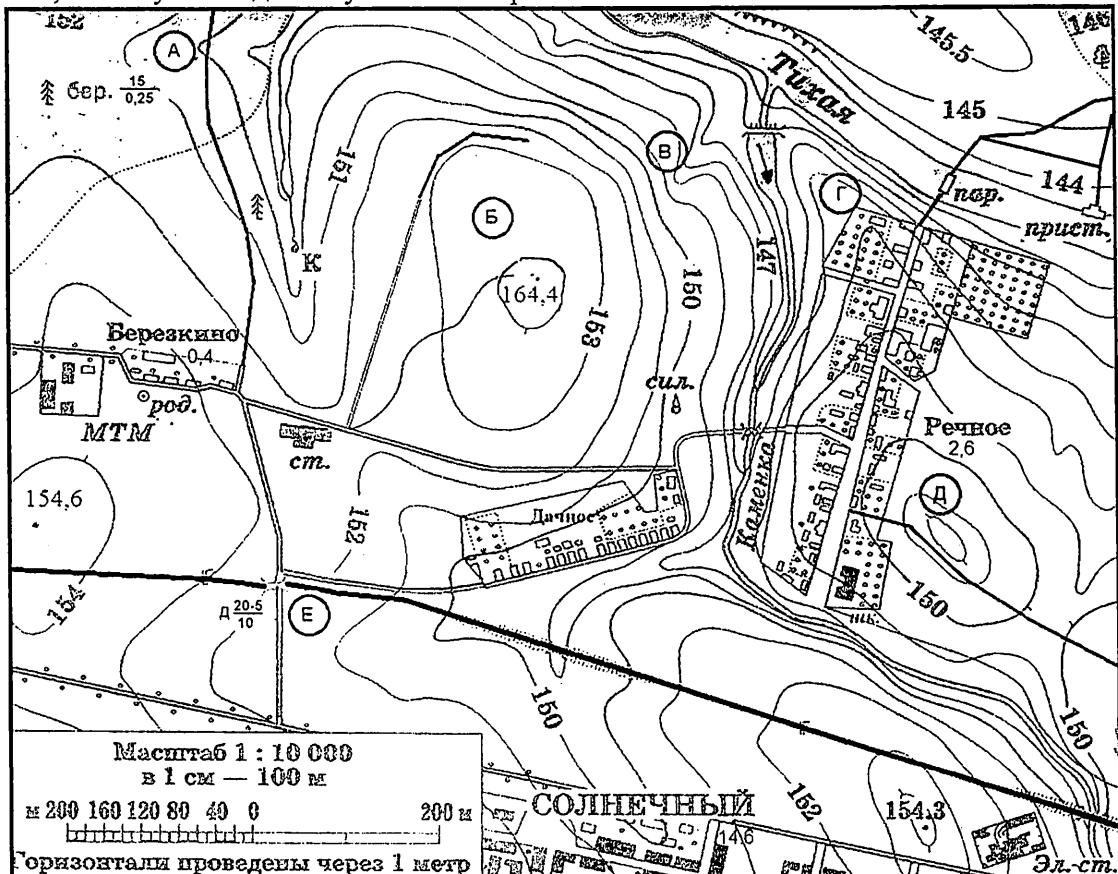
**ЗАДАНИЯ ТЕОРЕТИЧЕСКОГО ТУРА**

Общее количество баллов – 30 баллов

| Задание                    | 1  | 2 | 3 | 4   | Итого |
|----------------------------|----|---|---|-----|-------|
| Максимальное кол-во баллов | 11 | 5 | 6 | 8   | 30    |
| Оценка участника           | 3  | 3 | 6 | 2,5 | 12,5  |

**Задание 1.** На предложенном фрагменте топографической карты допущены 9 ошибок. Найдите их.

Буквами в кружках отмечены места, где можно разместить перечисленные объекты. Объясните, почему в каждом случае вы выбрали именно это место.



120 56

1) ветряную мельницу; 2) вертолетную площадку площадью 1 гектар при разнице высот не более 1 м; 3) домик лесника; 4) колодец; 5) железнодорожную станцию.

– Какой процесс происходит в точке В?

– Каково расстояние от окраины деревни Дачное до школы в поселке Речное и как быстро его преодолевают школьники, если они идут пешком по дороге со средней скоростью 4 км/ч?

Ответ записать с точностью до 50 метров и 3 минут.

Ответ:

Ошибки:

1. \_\_\_\_\_
2. \_\_\_\_\_
3. \_\_\_\_\_
4. \_\_\_\_\_
5. \_\_\_\_\_
6. \_\_\_\_\_
7. \_\_\_\_\_
8. \_\_\_\_\_
9. \_\_\_\_\_

Расположение объектов:

- 1). ~~А В А~~ А, ?
- 2). В Б, ровная поверхность +
- 3). А, рядом расположен лес +
- 4). Г, расположенные рядом с рекой +
- 5). Е, расположенные рядом с железной дорогой. +

Процесс в точке В гормирование неровных поверхностей +

Расстояние от деревни Дачное до школы в поселке Речное равно:

~~600 метров~~ 600 метров +

Время движения (минут)

~~7 минут~~ 8 минут +

Критерии оценивания: за правильный ответ - 0,5 балла. Указание процессов, расстояния в масштабе карты, расчёт расстояния и времени по 1 баллу. Всего 11 баллов.

## Задание 2.

На Земле есть замечательный материк. Следуя на корабле вдоль его берегов с запада на восток, путешественник пересечет три океана; север и юг на этом материке мгновенно «меняются» местами. И, наконец, в этих местах человек не всегда в состоянии отличить море от суши.

Какой это материк? Какие три океана можно пересечь? Почему север и юг мгновенно меняются местами? Почему в этих местах сложно отличить море от суши?

Азия, Индийский, Тихий, Северный ледовитый океаны. Северные и южные магнитные полюсы.

Критерии оценивания: за правильный ответ материка, объяснения – по 1 баллу (3 балла); за каждый правильный ответ на вопросы – 0,5 балла. Всего 5 баллов.

### Задание 3.

В 2016 году Лена смогла отметить свой день рождения именно в тот день, когда она родилась. Но сделала она это всего лишь 3-й раз за всю жизнь, хотя учится девочка в 5-м классе.

Как называется год, в который родилась Лена? Сколько он длится?

Высокоосновный год. 366 дней + +

Сколько лет девочке? 12 лет +

Какого числа родилась Лена? 29 февраля +

Критерии оценивания: за правильный ответ по 1 баллу, поощрительные баллы за полноту расчета в ответах на 3 и 4 вопрос – по 1 баллу. Всего 6 баллов.

### Задание 4.

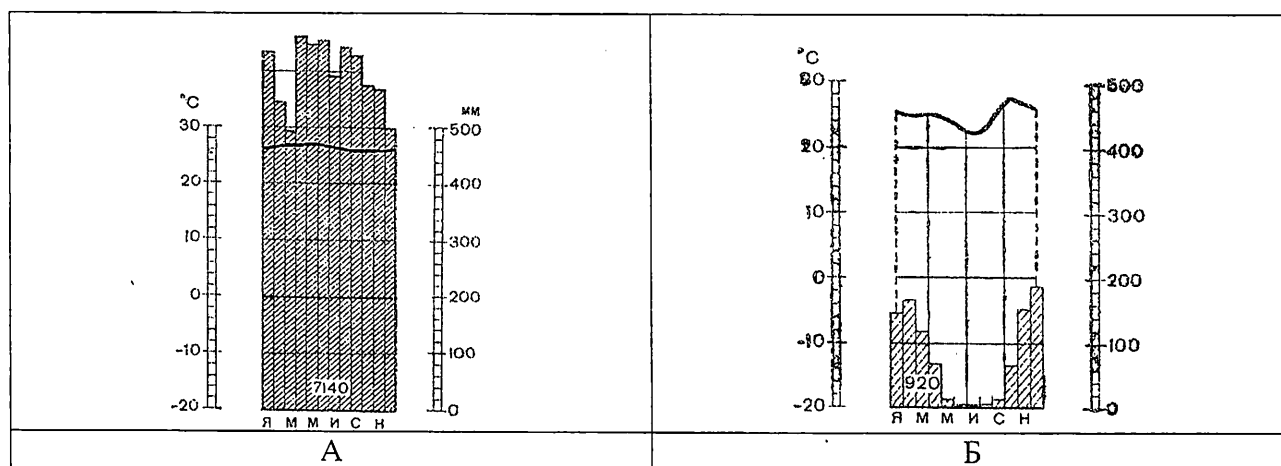
Установите соответствие между изображенными на рисунке с климатограммами и метеостанциями из таблицы, для которых известны географические координаты. Определите для каждой метеостанции тип и подтип климата.

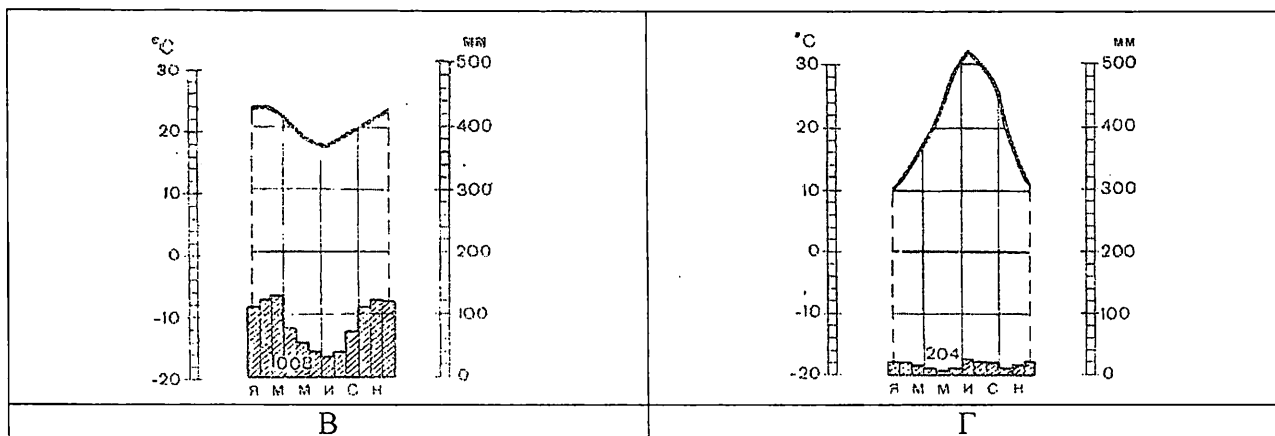
Учтите, что одна строчка останется незаполненной.

| Климатограмма  | Метеостанция | Широта   | Долгота   | Абсолютная высота, м | Тип и подтип климата |
|----------------|--------------|----------|-----------|----------------------|----------------------|
| A -            | Финикс +     | 33° с.ш. | 112° з.д. | 338                  | -                    |
|                |              | 38° с.ш. | 13° в.д.  | 72                   | .                    |
| <del>B</del> - | Андагоя +    | 5° с.ш.  | 77° з.д.  | 76                   | -                    |
| B +            | Ибипетуба +  | 11° ю.ш. | 45° з.д.  | 436                  | -                    |
| Г -            | Дурбан +     | 30° ю.ш. | 31° в.д.  | 5                    | -                    |

2,5

Метеостанции: Финикс (США), Ибипетуба (Бразилия), Дурбан (ЮАР), Андагоя (Колумбия)





Критерии оценивания: за правильный ответ соответствия графиков метеостанций и климатограмм - 0,5 баллов, определение типа и подтипа климата - 1 балл. Всего 8 баллов.

### ЗАДАНИЯ ТЕСТОВОГО ТУРА

Общее количество баллов - 20 баллов

| Задание                    | 1   | 2   | 3   | 4   | 5   | 6   | 7   | 8   | 9  | 10  | Итого |
|----------------------------|-----|-----|-----|-----|-----|-----|-----|-----|----|-----|-------|
| Максимальное кол-во баллов | 0,5 | 0,5 | 0,5 | 0,5 | 0,5 | 0,5 | 0,5 | 0,5 | 2  | 0,5 |       |
| Оценка участника           | —   | 0,5 | 0,5 | 0,5 | 0,5 | 0,5 | 0,5 | 0,5 | 2  | 0,5 |       |
| Задание                    | 11  | 12  | 13  | 14  | 15  | 16  | 17  | 18  | 19 | 20  | Итого |
| Максимальное кол-во баллов | 0,5 | 1   | 0,5 | 0,5 | 0,5 | 0,5 | 1   | 1   | 2  | 6   | 20    |
| Оценка участника           | 0,5 | 0,5 | 0,5 | —   | —   | —   | 1   | —   | —  | 1   | 9,5   |

#### 1. Первое кругосветное плавание совершил:

- 1) Христофор Колумб; 2) Фернан Магеллан; 3) Джеймс Кук; 4) Васко да Гама.

Ответ: 1

Критерии оценивания: за правильный ответ - 0,5 баллов.

#### 2. Укажите, кто первым употребил термин «география»:

- 1) Пифагор; 2) Аристотель; 3) Аристарх Самосский;  
4) Анаксимандр; 5) Страбон; 6) Эратосфен;  
7) Птолемей.

Ответ: 6

Критерии оценивания: за правильный ответ - 0,5 баллов.

#### 3. Земная ось наклонена к плоскости орбиты под углом:

- 1) 23,5°; 2) 66,5°; 3) 50°.

Ответ: 2

Критерии оценивания: за правильный ответ - 0,5 баллов.

#### 4. Что является главной причиной смены дня и ночи?

- 1) вращение Земли вокруг Солнца; 2) вращение Земли вокруг своей оси;  
3) вращение Луны вокруг Земли.

Ответ: 2

Критерии оценивания: за правильный ответ - 0,5 баллов.

#### 5. Температура горных пород с глубиной:

- 1) увеличивается; 2) уменьшается; 3) не изменяется; 4) зависит от времени года.

Ответ: 1

Критерии оценивания: за правильный ответ - 0,5 баллов.

#### 6. На карте масштаба 1:250 000 расстояние между пунктами составляет 9 см. Каково расстояние между этими пунктами на местности?

- 1) 36 км; 2) 27,8 км; 3) 22,5 км; 4) 25 км.

Ответ: 3

Критерии оценивания: за правильный ответ – 0,5 баллов.



**7. Причины образования цунами:**

- 1) ветер; 2) притяжение вод океана Луной;  
3) подводные землетрясения; 4) течения.

Ответ: 3

Критерии оценивания: за правильный ответ – 0,5 баллов.

**8. В мультфильме «Зима в Простоквашино» машина Дяди Федора застряла в яме. А как такую форму рельефа показывают на топографических картах?**

- 1)   
2) 

Ответ: 2

Критерии оценивания: за правильный ответ – 0,5 баллов.

**9. Приведите соответствие элемент погоды – измерительный прибор, впишите ответы в поля:**

- |                         |              |
|-------------------------|--------------|
| 1. атмосферное давление | а) флюгер    |
| 2. влажность воздуха    | б) осадкомер |
| 3. количество осадков   | в) гигрометр |
| 4. направление ветра    | г) барометр  |

Ответ:

1  2  3  4

Критерии оценивания: за правильный ответ – 0,5 баллов. Всего 2 балла

**10. Выберите правильное утверждение, в котором указаны материки по мере увеличения их площади:**

- 1) Австралия, Антарктида, Северная Америка, Южная Америка, Африка, Евразия;  
2) Евразия, Африка, Северная Америка, Южная Америка, Антарктида, Австралия;  
3) Австралия, Антарктида, Южная Америка, Африка, Северная Америка, Евразия;  
4) Австралия, Антарктида, Южная Америка, Северная Америка, Африка, Евразия.

Ответ: 4

Критерии оценивания: за правильный ответ – 0,5 баллов.

**11. Город является одним из старейших сибирских городов. Был основан 4 людьми: воеводой, священником, купцом и охотником. Сегодня на центральной улице города стоит замечательный памятник основателям города:**

- 1) Ханты – Мансийск; 2) Нижневартовск; 3) Сургут; 4) Нефтеюганск.

Ответ: 3

Критерии оценивания: за правильный ответ – 0,5 баллов.

**12. Какие части гидросферы нельзя видеть на физической карте мира:**

- 1) мировой океан; 2) воды атмосферы; 3) подземные воды;  
4) поверхностные воды.

Ответ: 3

Критерии оценивания: за правильный ответ – 0,5 баллов. Всего 1 балл.

**13. Определите, под какой цифрой находится лишнее название.**



Ответ: 1

Критерии оценивания: за правильный ответ – 0,5 баллов.

14. Какая река является магистральной рекой ХМАО – Югры:

- 1) Обь; 2) Ваха; 3) Иртыш; 4) Тобол.

Ответ: 3

Критерии оценивания: за правильный ответ – 0,5 баллов.

15. На каком острове находится вулкан Этна?

- 1) Исландия; 2) Ява; 3) Сицилия; 4) Кунашир.

Ответ: 1

Критерии оценивания: за правильный ответ – 0,5 баллов.

16. Существует или нет снежный человек - вопрос спорный, а вот снежная обезьяна существует. Обезьяна крупная, весит 11-18 кг, покрыта густой шерстью. Это не удивительно, так как средняя температура января в ареале ее обитания составляет от  $-3^{\circ}$  до  $-11^{\circ}\text{C}$ . Здесь много горячих источников, где обезьяны любят купаться, они неплохо плавают и даже ныряют. На курортах в открытых источниках их нередко можно видеть купающимися вместе с людьми. Назовите остров, на котором насчитывается около 30 тыс. снежных обезьян.

- 1) Исландия; 2) Хонсю; 3) Северный (Новая Зеландия); 4) Мадагаскар; 5) Хоккайдо.

Ответ: 2

Критерии оценивания: за правильный ответ – 0,5 баллов.

17. На какой широте расположен город, если расстояние от него до Северного полюса 40 градусов?

- 1) 40 градусов северной широты;  
2) 60 градусов северной широты;  
3) 50 градусов северной широты;  
4) 40 градусов южной широты.

Ответ: 3

Критерии оценивания: за правильный ответ – 1 балл.

18. О какой природной зоне идет речь?


Белый мох на скале, а в расщелине – лёд,  
Старый снег залежался, не тает.  
Дикий камень везде черной маской встаёт,  
Да поток по ущелью стекает.  
А по скалам кругом все-то птицы во мгле,  
Взглянешь сверху на них, будто марь на скале,  
Словно туча лежит над волнами.

Ответ: Тундра

Критерии оценивания: за правильный ответ – 1 балл.

19. Прочитайте описание. Назовите остров, для которого характерны следующие черты:

Разнообразные экосистемы острова и уникальный животный мир находятся под угрозой вымирания из-за быстро растущего населения. Более 90% видов не встречаются больше нигде на Земле. Благодаря уникальным условиям на острове жили и развивались виды, вымершие во всех остальных частях света. Это привело к появлению весьма необычных видов. От материка остров отделяется проливом шириной 422-925 км.



Фосса приобрела внешний вид, напоминающий кошку (хотя и состоит в близком родстве с мангустами). Малый тенрек внешне чрезвычайно похож на ежа.

Фосса

Малый тенрек

Ответ: Остров Северной Пролив ?

Критерии оценивания: за правильный ответ - 1 балл. Всего 2 балла.

**20. Прочитайте описание. О какой необычной вершине идет речь?**

Эту вершину называют по-разному. Правительство страны, лежащей к югу от горы, в 1965 г. объявило, что имеется такое название «Сагарматха», что означает «небесная вершина». На языке народа, проживающего к северу от этой вершины, ее название переводится как «мать страны гор». В 1856 г. вершине дали европейское название в честь начальника топографической службы.

Ответ:

Горная вершина (местное название) Сагарматха



Горная вершина (европейское название) \_\_\_\_\_

Заполните таблицу, соотнесите номер фотографии и название вершины.

Горные вершины: Эльбрус, Килиманджаро, Гекла, Фудзияма, Сагарматха.

Учтите, что в списке указана одна лишняя вершина.

|                   |   |  |
|-------------------|---|--|
| А<br>Килиманджаро | / |  |
| Б<br>Сагарматха   | / |  |

|   |   |   |
|---|---|---|
| 3 | - |    |
| 4 | + |  |

Критерии оценивания: за правильный ответ - 1 балл. Всего 6 баллов.



Всероссийская олимпиада по географии  
2024/25 учебный год  
Школьный этап

**Задания для участников 5-6 класса**

**Инструкция по выполнению работы**

Время, отведенное на выполнение заданий обоих туров – 90 минут  
Максимальное количество баллов за оба тура – 50.  
Внимательно прочитайте каждое задание.  
Ответ записывайте разборчиво.

Примечание. Не разрешается пользоваться школьными атласами  
и другими источниками информации.

Шифр ГЕО 54

*Итого: 19 + 9,5 = 28,5*

**ЗАДАНИЯ ТЕОРЕТИЧЕСКОГО ТУРА**  
*Общее количество баллов – 35 баллов*

| Задание                    | 1 | 2 | 3 | 4 | 5  | 6 | Итого |
|----------------------------|---|---|---|---|----|---|-------|
| Максимальное кол-во баллов | 2 | 3 | 3 | 3 | 22 | 2 | 35    |
| Оценка участника           | 2 | 3 | 0 | 2 | 10 | 2 | 19    |

*25* **Задание 1.**  
Существуют ли на Земле точки, для определения, местонахождения которых достаточно определить только широту? Если да, то назовите их.

Ответ: существуют: южный полюс и северный полюс

*Критерии оценивания:* за правильный ответ – 2 балла.

*35* **Задание 2.**  
Исправьте географические ошибки

- |   |  |
|---|--|
| 1. Город Мадагаскар <u>остров Мадагаскар</u> <sup>0,5</sup> | 4. Аравийский залив <u>п-остров</u> <sup>0,5</sup> ; |
| 2. Ладожское море <u>озеро</u> <sup>0,5</sup> ;             | 5. Остров Гималаи <u>горы</u> <sup>0,5</sup> ;       |
| 3. Озеро Амазонка <u>река</u> <sup>0,5</sup> ;              | 6. Красное озеро <u>Жуане</u> <sup>0,5</sup> .       |

*Критерии оценивания:* за каждый верный ответ - 0,5 балла. Всего – 3 балла.

*05* **Задание 3.**  
К какому понятию принадлежат следующие ассоциации:

- Волна, землетрясение, опасность, скорость, бедствие 0
- Скалы, пороги, зрелище, грохот, вода горы 0
- Океан, лёд, гора, опасность ледник 0

*Критерии оценивания:* за каждый верный ответ - 1 балл. Всего – 3 балла.

*15* **Задание 4.**

Один невнимательный ученик на плане местности обозначил зеленым цветом следующие объекты:

12034

а) лес; б) луг; в) пристань на реке; г) заросли кустарника; д) водяную мельницу.  
 Какие объекты надо обозначить другим цветом? Каким? синим

Критерии оценивания: за каждый верный ответ - 1 балл. Всего - 3 балла.

106 **Задание 4.** Прочитайте текст о географических рекордах материков нашей планеты и замените пропуски, обозначенные числами, на слова (словосочетания) или числа. Словами (словосочетаниями) в ответах могут быть географические названия, термины и понятия. Числовые ответы запишите цифрами, округлив до целого числа.

На нашей планете шесть материков, и каждый из них обладает своими географическими особенностями и рекордами.

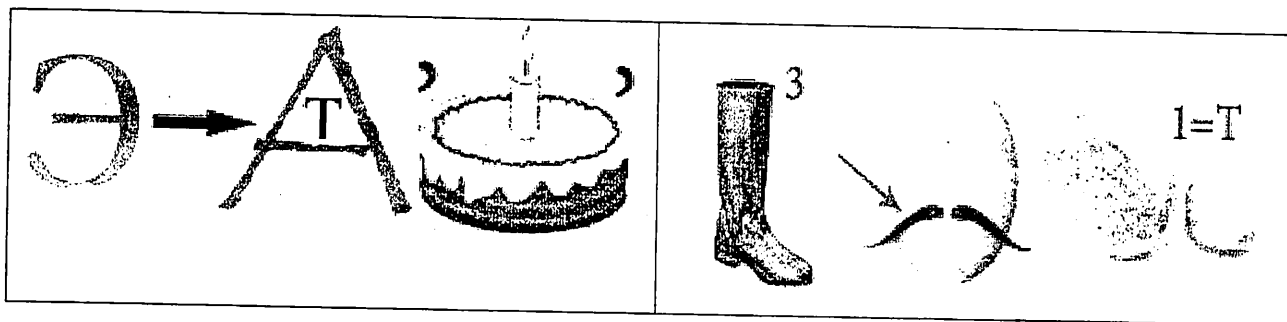
На самом большом по площади континенте Земли в горах (1) находится наивысшая точка планеты с высотой (2) метров над уровнем моря и самая низкая отметка суши - уровень (3) моря, которое на самом деле является озером. На этом же континенте располагаются самое большое по площади озеро мира - (4) море и самое глубокое в мире озеро - (5). Эти озёра находятся в самой большой по площади стране мира - (6). Самая длинная в мире река - (7), протекает по территории четвёртого по площади континента планеты. Долгое время самой длинной рекой считался (8), протекающий по территории самого жаркого материка Земли. Но самая высокая температура воздуха на планете зарегистрирована в (9), которая расположена на третьем по площади материке планеты. Самая низкая температура воздуха отмечена на материке (10). От ближайшего к нему континента он отделён самым широким проливом в мире под названием пролив (11).

| № | Ответы     | №  | Ответы       |
|---|------------|----|--------------|
| 1 | Кавказа 0  | 7  | Амазонка 2   |
| 2 | 1000 м 0   | 8  | Ильм 2       |
| 3 | Красное 0  | 9  | Африке 0     |
| 4 | Альбское 0 | 10 | Антарктида 2 |
| 5 | Вилкам 0   | 11 | Дрейка 2     |
| 6 | Россия 2   |    |              |

Критерии оценивания: за каждый верный ответ - 2 балла. Всего - 22 балла.

25

**Задание 6.** Максимальная оценка 2 балла (за каждый верный ответ 1 балл).  
 Отгадайте географические ребусы?



Ответ: экватор, пустыня

Критерии оценивания: за каждый верный ответ - 1 балл. Всего - 2 балла.

## ЗАДАНИЯ ТЕСТОВОГО ТУРА

Общее количество баллов – 15 баллов

|                            |     |     |     |     |     |     |     |     |       |
|----------------------------|-----|-----|-----|-----|-----|-----|-----|-----|-------|
| Задание                    | 1   | 2   | 3   | 4   | 5   | 6   | 7   | 8   | Итого |
| Максимальное кол-во баллов | 0,5 | 0,5 | 0,5 | 0,5 | 0,5 | 0,5 | 0,5 | 0,5 |       |
| Оценка участника           | 0,5 | 0,5 | 0,5 | 0,5 | 0,5 | 0,5 | 0,5 | 0,5 |       |
| Задание                    | 9   | 10  | 11  | 12  | 13  | 14  | 15  | 16  | Итого |
| Максимальное кол-во баллов | 0,5 | 0,5 | 0,5 | 0,5 | 1   | 1   | 2   | 5   | 15    |
| Оценка участника           | 0,5 | 0,5 | 0,5 | 0,5 | 1   | 0,5 | 1   | 1   | 9,5   |

0,5 1. Что изучают естественные науки?

- 1) образ жизни людей 2) историю цивилизаций  
3) экономику страны 4) природу окружающего мира

0,5 Критерии оценивания: за правильный ответ - 0,5 балла.

2. Воображаемая прямая, проходящая через центр Земли, вокруг которой происходит суточное вращение Земли:

- 1) полярный круг; 2) земная ось; 3) экватор; 4) северный полюс.

Критерии оценивания: за правильный ответ - 0,5 балла.

0,5 3. Днём и ночью, в любую погоду верным путеводителем является компас. Где появился первый компас?

- 1) в Японии; 2) в Индии; 3) в Испании; 4) в Китае.

Критерии оценивания: за правильный ответ - 0,5 балла.

0,5 4. Назовите сторону горизонта, противоположную северо-востоку:

- 1) юго-восток; 2) юго-запад; 3) северо-запад; 4) север

Критерии оценивания: за правильный ответ - 0,5 балла.

0,5 5. Какая природная зона описана в тексте?

«Лето тёплое, но зима суровая, преобладают хвойные растения, так как они менее требовательны к теплу. Животный мир разнообразен».

- 1) тундра 2) тайга 3) пустыня 4) арктическая пустыня

Критерии оценивания: за правильный ответ - 0,5 балла.

0,5 6. Какое озеро России включено в список объектов Всемирного природного наследия?

- 1) Ладожское 2) Байкал 3) Каспийское 4) Онежское

Критерии оценивания: за правильный ответ - 0,5 балла.

0,5 7. Ближайшими к Земле планетами Солнечной системы являются:

- 1) Сатурн и Юпитер; 2) Марс и Венера;  
3) Юпитер и Марс; 4) Венера и Меркурий

Критерии оценивания: за правильный ответ - 0,5 балла.

0,5 8. Чем является Солнце в Солнечной системе?

- 1) звездой 2) планетой 3) крупным астероидом 4) кометой

Критерии оценивания: за правильный ответ - 0,5 балла.

0,5 9. Какое утверждение неверно?

- 1) Лес — защитник почвы 2) Лесов так много, что вырубить их все невозможно  
3) Лес очищает воздух 4) Лес защищает почву от разрушения.

Критерии оценивания: за правильный ответ - 0,5 балла.

0,5 10. Что является основным занятием людей в тундре?

- 1) растениеводство; 2) рыболовство; 3) оленеводство

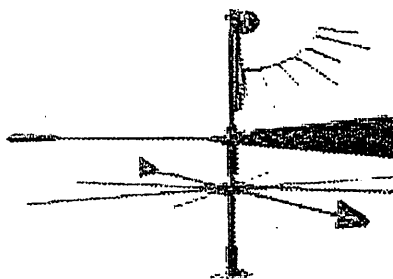

Критерии оценивания: за правильный ответ - 0,5 балла.

11. На каком материке находится наша страна:

ГЕО54  
0,5  
1) Европа 2) Азия 3) Северная Америка 4) Евразия  
Критерии оценивания: за правильный ответ - 0,5 балла.

12. Первым кругосветное путешествие совершила экспедиция:  
0,5  
1) Х. Колумба; 2) Ф. Магеллана; 3) Васко да Гамы; 4) Афанасий Никитин  
Критерии оценивания: за правильный ответ - 0,5 балла.


13. Этот простой метеорологический прибор называется (1), с его помощью можно измерить (2).



- А) 1 – флюгер, 2 – угол;  
Б) 1 – стрелка, 2 – направление;  
В) 1 – флюгер, 2 – направление, скорость;  
Г) 1 – анемометр, 2 – силу.

Критерии оценивания: за правильный ответ – 1 балл.

14. В какой природной зоне могли быть сделаны представленные фотографии.  
0,5  
Запишите название природной зоны.



Ответ: тундра, равнина, степь

Критерии оценивания: за правильный ответ – 1 балл.

15. Установите соответствие между названиями природных зон и географическими особенностями, которые характерны для каждой из них.

**ГЕОГРАФИЧЕСКИЕ ОСОБЕННОСТИ**

**ПРИРОДНЫЕ ЗОНЫ**

- А) расположена в умеренном поясе Северного полушария;  
Б) растительность скудная;  
В) занимает обширные районы крайнего севера России;  
Г) растут сосны, ели, пихта;  
Д) большое количество мхов и лишайников;  
Е) местообитание лисы, зайца, куропатки, белки и др.

- 1) тундра  
2) тайга


Запишите в таблицу выбранные цифры под соответствующими буквами.

| А | Б | В | Г | Д | Е |
|---|---|---|---|---|---|
| 2 | 1 | 1 | 2 | 2 | 1 |

Критерии оценивания: за правильный ответ – 2 балла.

16. В различных уголках мира обитают нелетающие птицы. Установите соответствия: «изображение нелетающей птицы – её название – ареал обитания».

- 1) африканский страус 2) нанду 3) киви 4) казуары 5) императорский пингвин



I) Антарктида

II) Африка

III) Новая Зеландия

IV) Австралия

V) Южная Америка

Ответ: 1б 2б 3в 4г 5а

Критерии оценивания: за правильный ответ – 5 баллов.

Всероссийская олимпиада по географии  
2024/25 учебный год  
Школьный этап

Задания для участников 5-6 класса

Инструкция по выполнению работы

Время, отведенное на выполнение заданий обоих туров – 90 минут

Максимальное количество баллов за оба тура – 50.

Внимательно прочитайте каждое задание.

Ответ записывайте разборчиво.

Примечание. Не разрешается пользоваться школьными атласами и другими источниками информации.

Итого:  $18,5 + 9,5 = 28$  Шифр ГЕО 82

ЗАДАНИЯ ТЕОРЕТИЧЕСКОГО ТУРА

Общее количество баллов – 35 баллов

| Задание                    | 1 | 2   | 3 | 4 | 5   | 6 | Итого |
|----------------------------|---|-----|---|---|-----|---|-------|
| Максимальное кол-во баллов | 2 | 3   | 3 | 3 | 22  | 2 | 35    |
| Оценка участника           | 0 | 2,5 | 0 | 2 | 1,2 | 2 | 18,5  |

Задание 1.

Существуют ли на Земле точки, для определения, местонахождения которых достаточно определить только широту? Если да, то назовите их.

Ответ: Меридианы

Критерии оценивания: за правильный ответ – 2 балла.

Задание 2.

Исправьте географические ошибки

1. Город Мадагаскар Остров 0,5; 4. Аравийский залив Гулф 0;  
2. Ладожское море Озеро 0,5; 5. Остров Гималаи Горы 0,5;  
3. Озеро Амазонка Река 0,5; 6. Красное озеро Море 0,5.

Критерии оценивания: за каждый верный ответ - 0,5 балла. Всего – 3 балла.

Задание 3.

К какому понятию принадлежат следующие ассоциации:

Волна, землетрясение, опасность, скорость, бедствие \_\_\_\_\_

Скалы, пороги, зрелище, грохот, вода \_\_\_\_\_

Океан, лёд, гора, опасность \_\_\_\_\_

Критерии оценивания: за каждый верный ответ - 1 балл. Всего – 3 балла.

Задание 4.

Один невнимательный ученик на плане местности обозначил зеленым цветом следующие объекты:

25 а) лес; б) луг; в) пристань на реке; г) заросли кустарника; д) водяную мельницу.  
Какие объекты надо обозначить другим цветом? Каким? Г. и В.

Критерии оценивания: за каждый верный ответ - 1 балл. Всего - 3 балла.

120

**Задание 4.** Прочитайте текст о географических рекордах материков нашей планеты и замените пропуски, обозначенные числами, на слова (словосочетания) или числа. Словами (словосочетаниями) в ответах могут быть географические названия, термины и понятия. Числовые ответы запишите цифрами, округлив до целого числа.

На нашей планете шесть материков, и каждый из них обладает своими географическими особенностями и рекордами.

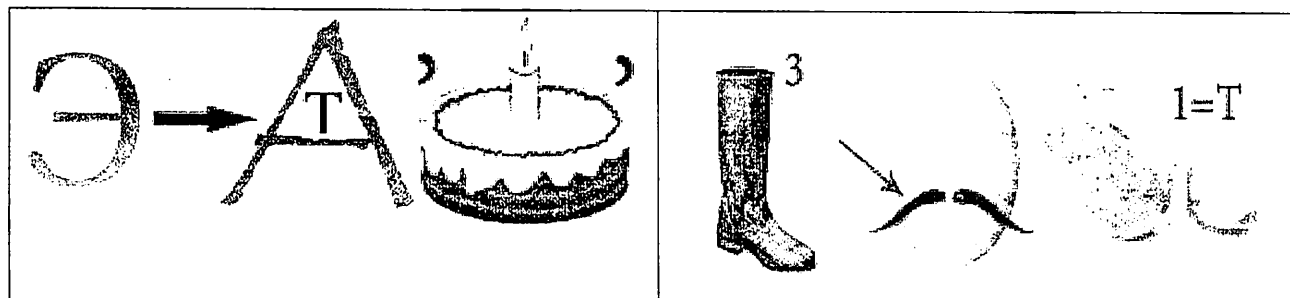
На самом большом по площади континенте Земли в горах (1) находится наивысшая точка планеты с высотой (2) метров над уровнем моря и самая низкая отметка суши – уровень (3) моря, которое на самом деле является озером. На этом же континенте располагаются самое большое по площади озеро мира – (4) море и самое глубокое в мире озеро – (5). Эти озёра находятся в самой большой по площади стране мира – (6). Самая длинная в мире река – (7), протекает по территории четвёртого по площади континента планеты. Долгое время самой длинной рекой считался (8), протекающий по территории самого жаркого материка Земли. Но самая высокая температура воздуха на планете зарегистрирована в (9), которая расположена на третьем по площади материке планеты. Самая низкая температура воздуха отмечена на материке (10). От ближайшего к нему континента он отделён самым широким проливом в мире под названием пролив (11).

| № | Ответы       | №  | Ответы       |
|---|--------------|----|--------------|
| 1 | Гималаи 2    | 7  | Амазонка 2   |
| 2 | 0            | 8  | 0            |
| 3 | 0            | 9  | Африке 0     |
| 4 | Каспийское 2 | 10 | Антарктида 2 |
| 5 | Байкал 2     | 11 | Мальдона 0   |
| 6 | Россия 2     |    |              |

Критерии оценивания: за каждый верный ответ - 2 балла. Всего - 22 балла.

25

**Задание 6.** Максимальная оценка 2 балла (за каждый верный ответ 1 балл). Отгадайте географические ребусы?



Ответ: Экватор, Пустыня

Критерии оценивания: за каждый верный ответ - 1 балл. Всего - 2 балла.

## ЗАДАНИЯ ТЕСТОВОГО ТУРА

Общее количество баллов – 15 баллов

| Задание                    | 1   | 2   | 3   | 4   | 5   | 6   | 7   | 8   | Итого |
|----------------------------|-----|-----|-----|-----|-----|-----|-----|-----|-------|
| Максимальное кол-во баллов | 0,5 | 0,5 | 0,5 | 0,5 | 0,5 | 0,5 | 0,5 | 0,5 |       |
| Оценка участника           | 0,5 | 0   | 0,5 | 0,5 | 0,5 | 0,5 | 0,5 | 0,5 |       |
| Задание                    | 9   | 10  | 11  | 12  | 13  | 14  | 15  | 16  | Итого |
| Максимальное кол-во баллов | 0,5 | 0,5 | 0,5 | 0,5 | 1   | 1   | 2   | 5   | 15    |
| Оценка участника           | 0,5 | 0,5 | 0,5 | 0,5 | 0   | 1   | 0   | 3   | 9,5   |

- 0,5 1. Что изучают естественные науки?  
 1) образ жизни людей 2) историю цивилизаций  
 3) экономику страны 4) природу окружающего мира  
 Критерии оценивания: за правильный ответ - 0,5 балла.
- 0,5 2. Воображаемая прямая, проходящая через центр Земли, вокруг которой происходит суточное вращение Земли:  
 1) полярный круг; 2) земная ось; 3) экватор; 4) северный полюс.  
 Критерии оценивания: за правильный ответ - 0,5 балла.
- 0,5 3. Днём и ночью, в любую погоду верным путеводителем является компас. Где появился первый компас?  
 1) в Японии; 2) в Индии; 3) в Испании; 4) в Китае.  
 Критерии оценивания: за правильный ответ - 0,5 балла.
- 0,5 4. Назовите сторону горизонта, противоположную северо-востоку:  
 1) юго-восток; 2) юго-запад; 3) северо-запад; 4) север  
 Критерии оценивания: за правильный ответ - 0,5 балла.
- 0,5 5. Какая природная зона описана в тексте?  
 «Лето тёплое, но зима суровая, преобладают хвойные растения, так как они менее требовательны к теплу. Животный мир разнообразен».  
 1) тундра 2) тайга 3) пустыня 4) арктическая пустыня  
 Критерии оценивания: за правильный ответ - 0,5 балла.
- 0,5 6. Какое озеро России включено в список объектов Всемирного природного наследия?  
 1) Ладожское 2) Байкал 3) Каспийское 4) Онежское  
 Критерии оценивания: за правильный ответ - 0,5 балла.
- 0,5 7. Ближайшими к Земле планетами Солнечной системы являются:  
 1) Сатурн и Юпитер; 2) Марс и Венера;  
 3) Юпитер и Марс; 4) Венера и Меркурий  
 Критерии оценивания: за правильный ответ - 0,5 балла.
- 0,5 8. Чем является Солнце в Солнечной системе?  
 1) звездой 2) планетой 3) крупным астероидом 4) кометой  
 Критерии оценивания: за правильный ответ - 0,5 балла.
- 0,5 9. Какое утверждение неверно?  
 1) Лес — защитник почвы 2) Лесов так много, что вырубить их все невозможно  
 3) Лес очищает воздух 4) Лес защищает почву от разрушения.  
 Критерии оценивания: за правильный ответ - 0,5 балла.
- 0,5 10. Что является основным занятием людей в тундре?  
 1) растениеводство; 2) рыболовство; 3) оленеводство  
 Критерии оценивания: за правильный ответ - 0,5 балла.
11. На каком материке находится наша страна:



ГЕО 82

0,5

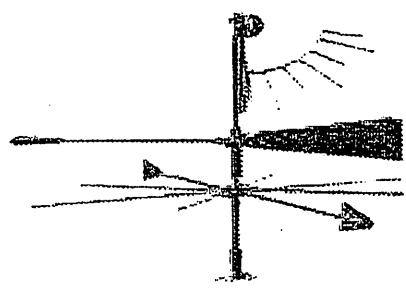

1) Европа 2) Азия 3) Северная Америка ④ Евразия  
Критерии оценивания: за правильный ответ - 0,5 балла.

0,5

12. Первым кругосветное путешествие совершила экспедиция:  
1) Х. Колумба; ② Ф. Магеллана; 3) Васко да Гамы; 4) Афанасий Никитин  
Критерии оценивания: за правильный ответ - 0,5 балла.

0

13. Этот простой метеорологический прибор называется (1), с его помощью можно измерить (2).




- А) 1 – флюгер, 2 – угол;
- ⑤ Б) 1 – стрелка, 2 – направление;
- В) 1 – флюгер, 2 – направление, скорость;
- Г) 1 – анемометр, 2 – силу.

Критерии оценивания: за правильный ответ – 1 балл.

1

14. В какой природной зоне могли быть сделаны представленные фотографии. Запишите название природной зоны.



Ответ: Тундра

Критерии оценивания: за правильный ответ – 1 балл.

0

15. Установите соответствие между названиями природных зон и географическими особенностями, которые характерны для каждой из них.

**ГЕОГРАФИЧЕСКИЕ ОСОБЕННОСТИ**

**ПРИРОДНЫЕ ЗОНЫ**

- А) расположена в умеренном поясе Северного полушария;
- Б) растительность скудная;
- В) занимает обширные районы крайнего севера России;
- Г) растут сосны, ели, пихта;
- Д) большое количество мхов и лишайников;
- Е) местообитание лисы, зайца, куропатки, белки и др.

- 1) тундра
- 2) тайга

Запишите в таблицу выбранные цифры под соответствующими буквами.


| А | Б | В | Г | Д | Е |
|---|---|---|---|---|---|
| 1 | 1 | 2 | 1 | 2 | 2 |

Критерии оценивания: за правильный ответ – 2 балла.

0

16. В различных уголках мира обитают нелетающие птицы. Установите соответствия: «изображение нелетающей птицы – её название – ареал обитания».

- 1) африканский страус 2) нанду 3) киви 4) казуары 5) императорский пингвин



I) Антарктида

II) Африка

III) Новая Зеландия

IV) Австралия

V) Южная Америка

Ответ: ~~I 5, II 1, III 2, IV 3, V 4.~~

<sup>1</sup> I 5A, II 1B, III 4B, IV 3, V 42!

Критерии оценивания: за правильный ответ – 5 баллов.

Всероссийская олимпиада по географии  
2024/25 учебный год  
Школьный этап

**Задания для участников 5-6 класса**

**Инструкция по выполнению работы**

Время, отведенное на выполнение заданий обоих туров – 90 минут

Максимальное количество баллов за оба тура – 50.

Внимательно прочитайте каждое задание.

Ответ записывайте разборчиво.

Примечание. Не разрешается пользоваться школьными атласами и другими источниками информации.

Шифр Гео 50

Итого:  $14 + 10,5 = 24,5$

**ЗАДАНИЯ ТЕОРЕТИЧЕСКОГО ТУРА**

*Общее количество баллов – 35 баллов*

| Задание                    | 1 | 2 | 3 | 4 | 5  | 6 | Итого |
|----------------------------|---|---|---|---|----|---|-------|
| Максимальное кол-во баллов | 2 | 3 | 3 | 3 | 22 | 2 | 35    |
| Оценка участника           | 0 | 3 | 1 | 0 | 9  | 1 | 14    |

**Задание 1.**

Существуют ли на Земле точки, для определения, местонахождения которых достаточно определить только широту? Если да, то назовите их.

Ответ: Да, есть. Экватор

*Критерии оценивания: за правильный ответ – 2 балла.*

**Задание 2.**

Исправьте географические ошибки

1. Город Мадагаскар Остров Мадагаскар <sup>0,5</sup>
2. Ладожское море Ладожское озеро <sup>0,5</sup>
3. Озеро Амазонка Река Амазонка <sup>0,5</sup>
4. Аравийский залив Аравийский полуостров <sup>0,5</sup>
5. Остров Гималаи Горы Гималаи <sup>0,5</sup>
6. Красное озеро Красное море <sup>0,5</sup>

*Критерии оценивания: за каждый верный ответ - 0,5 балла. Всего – 3 балла.*

**Задание 3.**

К какому понятию принадлежат следующие ассоциации:

Волна, землетрясение, опасность, скорость, бедствие Цунами <sup>1</sup>

Скалы, пороги, зрелище, грохот, вода Верхняя Вулкана <sup>0</sup>

Океан, лёд, гора, опасность Лавина <sup>0</sup>

*Критерии оценивания: за каждый верный ответ - 1 балл. Всего – 3 балла.*

**Задание 4.**

Один невнимательный ученик на плане местности обозначил зеленым цветом следующие объекты:

- 0 а) лес; б) луг; в) пристань на реке; г) заросли кустарника; д) водяную мельницу.  
 Какие объекты надо обозначить другим цветом? Каким? Пристань на реке - синим, Водяная мельница - черным  
 Критерии оценивания: за каждый верный ответ - 1 балл. Всего - 3 балла.

9 Задание 4. Прочитайте текст о географических рекордах материков нашей планеты и замените пропуски, обозначенные числами, на слова (словосочетания) или числа. Словами (словосочетаниями) в ответах могут быть географические названия, термины и понятия. Числовые ответы запишите цифрами, округлив до целого числа.

На нашей планете шесть материков, и каждый из них обладает своими географическими особенностями и рекордами.

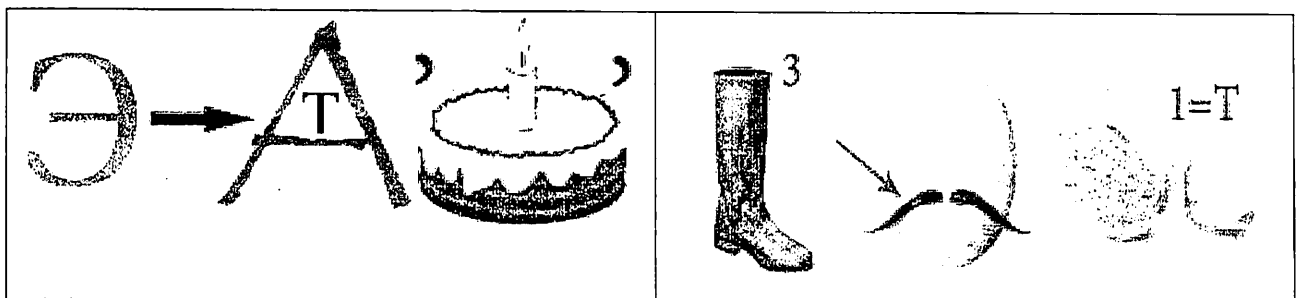
На самом большом по площади континенте Земли в горах (1) находится наивысшая точка планеты с высотой (2) метров над уровнем моря и самая низкая отметка суши – уровень (3) моря, которое на самом деле является озером. На этом же континенте располагаются самое большое по площади озеро мира – (4) море и самое глубокое в мире озеро – (5). Эти озёра находятся в самой большой по площади стране мира – (6). Самая длинная в мире река – (7), протекает по территории четвёртого по площади континента планеты. Долгое время самой длинной рекой считался (8), протекающий по территории самого жаркого материка Земли. Но самая высокая температура воздуха на планете зарегистрирована в (9), которая расположена на третьем по площади материке планеты. Самая низкая температура воздуха отмечена на материке (10). От ближайшего к нему континента он отделён самым широким проливом в мире под названием пролив (11).

Школы: Гео 50

| № | Ответы               | №  | Ответы       |
|---|----------------------|----|--------------|
| 1 | Гималаи 2            | 7  | Амазонка 2   |
| 2 | 6000 м. 0            | 8  | Нил 2        |
| 3 | - 200 м. 0           | 9  | Антарктида 0 |
| 4 | Лаптеховское море 10 | 10 | Антарктида 2 |
| 5 | Байкальское озеро 11 |    | Баффин 0     |
| 6 | Россия               |    |              |

Критерии оценивания: за каждый верный ответ - 2 балла. Всего - 22 балла.

16 Задание 6. Максимальная оценка 2 балла (за каждый верный ответ 1 балл).  
 Отгадайте географические ребусы?



Ответ: Экватор,

Критерии оценивания: за каждый верный ответ - 1 балл. Всего - 2 балла.

## ЗАДАНИЯ ТЕСТОВОГО ТУРА

Общее количество баллов – 15 баллов

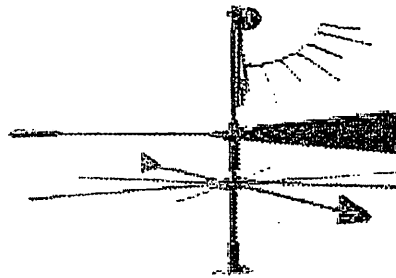

| Задание                    | 1   | 2   | 3   | 4   | 5   | 6   | 7   | 8   | Итого |
|----------------------------|-----|-----|-----|-----|-----|-----|-----|-----|-------|
| Максимальное кол-во баллов | 0,5 | 0,5 | 0,5 | 0,5 | 0,5 | 0,5 | 0,5 | 0,5 |       |
| Оценка участника           | 0,5 | 0   | 0,5 | 0,5 | 0,5 | 0,5 | 0,5 | 0,5 |       |
| Задание                    | 9   | 10  | 11  | 12  | 13  | 14  | 15  | 16  | Итого |
| Максимальное кол-во баллов | 0,5 | 0,5 | 0,5 | 0,5 | 1   | 1   | 2   | 5   | 15    |
| Оценка участника           | 0,5 | 0,5 | 0,5 | 0,5 | 1   | 1   | 0   | 3   | 10,5  |

- 0,5 1. Что изучают естественные науки?  
 1) образ жизни людей 2) историю цивилизаций  
 3) экономику страны 4) природу окружающего мира  
 Критерии оценивания: за правильный ответ - 0,5 балла.
- 0 2. Воображаемая прямая, проходящая через центр Земли, вокруг которой происходит суточное вращение Земли:  
 1) полярный круг; 2) земная ось; 3) экватор; 4) северный полюс.  
 Критерии оценивания: за правильный ответ - 0,5 балла.
- 0,5 3. Днём и ночью, в любую погоду верным путеводителем является компас. Где появился первый компас?  
 1) в Японии; 2) в Индии; 3) в Испании; 4) в Китае.  
 Критерии оценивания: за правильный ответ - 0,5 балла.
- 0,5 4. Назовите сторону горизонта, противоположную северо-востоку:  
 1) юго-восток; 2) юго-запад; 3) северо-запад; 4) север  
 Критерии оценивания: за правильный ответ - 0,5 балла.
- 0,5 5. Какая природная зона описана в тексте?  
 «Лето тёплое, но зима суровая, преобладают хвойные растения, так как они менее требовательны к теплу. Животный мир разнообразен».  
 1) тундра 2) тайга 3) пустыня 4) арктическая пустыня  
 Критерии оценивания: за правильный ответ - 0,5 балла.
- 0,5 6. Какое озеро России включено в список объектов Всемирного природного наследия?  
 1) Ладожское 2) Байкал 3) Каспийское 4) Онежское  
 Критерии оценивания: за правильный ответ - 0,5 балла.
- 0,5 7. Ближайшими к Земле планетами Солнечной системы являются:  
 1) Сатурн и Юпитер; 2) Марс и Венера;  
 3) Юпитер и Марс; 4) Венера и Меркурий  
 Критерии оценивания: за правильный ответ - 0,5 балла.
- 0,5 8. Чем является Солнце в Солнечной системе?  
 1) звездой 2) планетой 3) крупным астероидом 4) кометой  
 Критерии оценивания: за правильный ответ - 0,5 балла.
- 0,5 9. Какое утверждение неверно?  
 1) Лес — защитник почвы 2) Лесов так много, что вырубить их все невозможно  
 3) Лес очищает воздух 4) Лес защищает почву от разрушения.  
 Критерии оценивания: за правильный ответ - 0,5 балла.
- 0,5 10. Что является основным занятием людей в тундре?  
 1) растениеводство; 2) рыболовство; 3) оленеводство  
 Критерии оценивания: за правильный ответ - 0,5 балла.
11. На каком материке находится наша страна:

с, 5) 1) Европа 2) Азия 3) Северная Америка 4) Евразия  
 Критерии оценивания: за правильный ответ - 0,5 балла.

12. Первым кругосветное путешествие совершила экспедиция:  
 1) Х. Колумба; 2) Ф. Магеллана; 3) Васко да Гамы; 4) Афанасий Никитин  
 Критерии оценивания: за правильный ответ - 0,5 балла.


13. Этот простой метеорологический прибор называется (1), с его помощью можно измерить (2).



- А) 1 – флюгер, 2 – угол;
- Б) 1 – стрелка, 2 – направление;
- В) 1 – флюгер, 2 – направление, скорость;
- Г) 1 – анемометр, 2 – силу.

Критерии оценивания: за правильный ответ – 1 балл.

14. В какой природной зоне могли быть сделаны представленные фотографии.  
 Запишите название природной зоны.



Ответ: Тундра

Критерии оценивания: за правильный ответ – 1 балл.

15. Установите соответствие между названиями природных зон и географическими особенностями, которые характерны для каждой из них.

**ГЕОГРАФИЧЕСКИЕ ОСОБЕННОСТИ**

**ПРИРОДНЫЕ ЗОНЫ**

- А) расположена в умеренном поясе Северного полушария; 1) тундра
- Б) растительность скудная; 2) тайга
- В) занимает обширные районы крайнего севера России;
- Г) растут сосны, ели, пихта;
- Д) большое количество мхов и лишайников;
- Е) местообитание лисы, зайца, куропатки, белки и др.

Запишите в таблицу выбранные цифры под соответствующими буквами.


| А | Б | В | Г | Д | Е |
|---|---|---|---|---|---|
| 2 |   |   |   |   |   |

Критерии оценивания: за правильный ответ – 2 балла.

16. В различных уголках мира обитают нелетающие птицы. Установите соответствия: «изображение нелетающей птицы – её название – ареал обитания».

- 1) африканский страус 2) нанду 3) киви 4) казуары 5) императорский пингвин

Школяр 100 50



I) Антарктида

II) Африка

III) Новая Зеландия

IV) Австралия

V) Южная Америка

Ответ:

~~I - II - III - IV - V~~ 1) I - II - B, 2) 2 - III - Г, 3) 3 - V - Д, 4) 4 - IV - Б, 5) 5 - I - А

Критерии оценивания: за правильный ответ - 5 баллов.

Миссис: 10050

Всероссийская олимпиада по географии  
2024/25 учебный год  
Школьный этап

**Задания для участников 5-6 класса**

**Инструкция по выполнению работы**

Время, отведенное на выполнение заданий обоих туров – 90 минут  
Максимальное количество баллов за оба тура – 50.  
Внимательно прочитайте каждое задание.  
Ответ записывайте разборчиво.

Примечание. Не разрешается пользоваться школьными атласами и другими источниками информации.

Шифр \_\_\_\_\_

Итого: 17,5б + 10б = 27,5б.

**ЗАДАНИЯ ТЕОРЕТИЧЕСКОГО ТУРА**  
*Общее количество баллов – 35 баллов*

| Задание                    | 1 | 2   | 3 | 4 | 5  | 6 | Итого |
|----------------------------|---|-----|---|---|----|---|-------|
| Максимальное кол-во баллов | 2 | 3   | 3 | 3 | 22 | 2 | 35    |
| Оценка участника           | 0 | 2,5 | 3 | 2 | 10 | 2 | 19,5  |

**Задание 1.**

Существуют ли на Земле точки, для определения, местонахождения которых достаточно определить только широту? Если да, то назовите их.

Ответ: Коперникатика

*Критерии оценивания: за правильный ответ – 2 балла.*

**Задание 2.**

Исправьте географические ошибки

- 2,5
- † 1. Город Мадагаскар остров Мадагаскар
  - † 2. Ладожское море Ладожское озеро ;
  - † 3. Озеро Амазонка Река Амазонка
  - 4. Аравийский залив Аравийский полуостров
  - 5. Остров Гималаи Гора Гималаи ; †
  - 6. Красное озеро Красное море . †

*Критерии оценивания: за каждый верный ответ - 0,5 балла. Всего – 3 балла.*

**Задание 3.**

К какому понятию принадлежат следующие ассоциации:

- 3
- Волна, землетрясение, опасность, скорость, бедствие цунами †
  - Скалы, пороги, зрелище, грохот, вода водопад †
  - Океан, лёд, гора, опасность Альпы †

*Критерии оценивания: за каждый верный ответ - 1 балл. Всего – 3 балла.*

**Задание 4.**

Один невнимательный ученик на плане местности обозначил зеленым цветом следующие объекты:



а) лес; б) луг; в) пристань на реке; г) заросли кустарника; д) водяную мельницу.

Какие объекты надо обозначить другим цветом? Каким? шикарная река, луг, пристань, заросли кустарника, водяная мельница

Критерии оценивания: за каждый верный ответ - 1 балл. Всего - 3 балла.

2010 **Задание 4.** Прочитайте текст о географических рекордах материков нашей планеты и замените пропуски, обозначенные числами, на слова (словосочетания) или числа. Словами (словосочетаниями) в ответах могут быть географические названия, термины и понятия. Числовые ответы запишите цифрами, округлив до целого числа.

На нашей планете шесть материков, и каждый из них обладает своими географическими особенностями и рекордами.

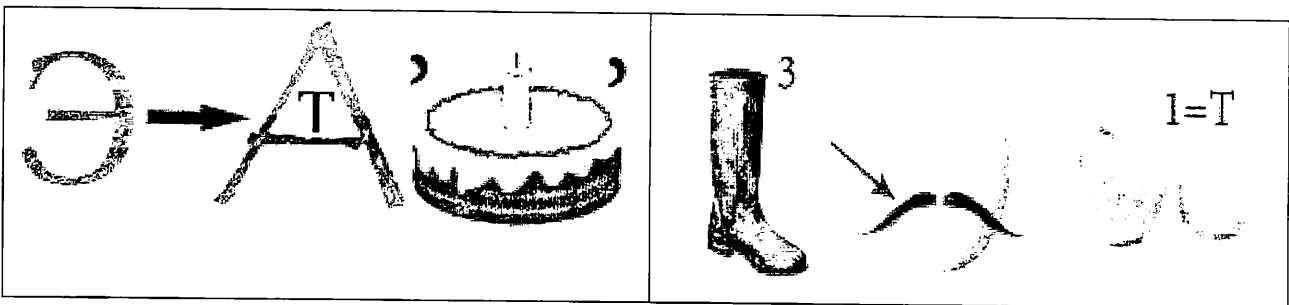
На самом большом по площади континенте Земли в горах (1) находится наивысшая точка планеты с высотой (2) метров над уровнем моря и самая низкая отметка суши – уровень (3) моря, которое на самом деле является озером. На этом же континенте располагаются самое большое по площади озеро мира – (4) море и самое глубокое в мире озеро – (5). Эти озёра находятся в самой большой по площади стране мира – (6). Самая длинная в мире река – (7), протекает по территории четвёртого по площади континента планеты. Долгое время самой длинной рекой считался (8), протекающий по территории самого жаркого материка Земли. Но самая высокая температура воздуха на планете зарегистрирована в (9), которая расположена на третьем по площади материке планеты. Самая низкая температура воздуха отмечена на материке (10). От ближайшего к нему континента он отделён самым широким проливом в мире под названием пролив (11).

| № | Ответы    | №  | Ответы     |
|---|-----------|----|------------|
| 1 | Гималаи + | 7  | Амазонка + |
| 2 |           | 8  | Эльбис +   |
| 3 |           | 9  |            |
| 4 |           | 10 |            |
| 5 | Вайтман + | 11 |            |
| 6 | Засвия +  |    |            |

Критерии оценивания: за каждый верный ответ - 2 балла. Всего - 22 балла.

**Задание 6.** Максимальная оценка 2 балла (за каждый верный ответ 1 балл).

Отгадайте географические ребусы?



10  
 Ответ: 302 70 + 2 Пустыня +

Критерии оценивания: за каждый верный ответ - 1 балл. Всего - 2 балла.

**ЗАДАНИЯ ТЕСТОВОГО ТУРА**  
Общее количество баллов – 15 баллов

№ 10

| Задание                    | 1   | 2   | 3   | 4   | 5   | 6   | 7   | 8   | Итого |
|----------------------------|-----|-----|-----|-----|-----|-----|-----|-----|-------|
| Максимальное кол-во баллов | 0,5 | 0,5 | 0,5 | 0,5 | 0,5 | 0,5 | 0,5 | 0,5 |       |
| Оценка участника           | 0,5 | 0,5 | 0,5 | 0,5 | 0,5 | 0,5 | 0   | 0,5 | 3,5   |
| Задание                    | 9   | 10  | 11  | 12  | 13  | 14  | 15  | 16  | Итого |
| Максимальное кол-во баллов | 0,5 | 0,5 | 0,5 | 0,5 | 1   | 1   | 2   | 5   | 15    |
| Оценка участника           | 0,5 | 0,5 | 0,5 | 0   | 1   | 1   | 1   | 2   | 6,5   |

**1. Что изучают естественные науки?**

- 1) образ жизни людей 2) историю цивилизаций 0,5  
3) экономику страны 4) природу окружающего мира

Критерии оценивания: за правильный ответ - 0,5 балла.

**2. Воображаемая прямая, проходящая через центр Земли, вокруг которой происходит суточное вращение Земли:**

- 1) полярный круг; 2) земная ось; 3) экватор; 4) северный полюс. 0,5

Критерии оценивания: за правильный ответ - 0,5 балла.

**3. Днём и ночью, в любую погоду верным путеводителем является компас. Где появился первый компас?**

- 1) в Японии; 2) в Индии; 3) в Испании; 4) в Китае. 0,5

Критерии оценивания: за правильный ответ - 0,5 балла.

**4. Назовите сторону горизонта, противоположную северо-востоку:**

- 1) юго-восток; 2) юго-запад; 3) северо-запад; 4) север 0,5

Критерии оценивания: за правильный ответ - 0,5 балла.

**5. Какая природная зона описана в тексте?**

«Лето тёплое, но зима суровая, преобладают хвойные растения, так как они менее требовательны к теплу. Животный мир разнообразен».

- 1) тундра 2) тайга 3) пустыня 4) арктическая пустыня 0,5

Критерии оценивания: за правильный ответ - 0,5 балла.

**6. Какое озеро России включено в список объектов Всемирного природного наследия?**

- 1) Ладожское 2) Байкал 3) Каспийское 4) Онежское 0,5

Критерии оценивания: за правильный ответ - 0,5 балла.

**7. Ближайшими к Земле планетами Солнечной системы являются:**

- 1) Сатурн и Юпитер; 2) Марс и Венера;  
3) Юпитер и Марс; 4) Венера и Меркурий

Критерии оценивания: за правильный ответ - 0,5 балла.

**8. Чем является Солнце в Солнечной системе?**

- 1) звездой 2) планетой 3) крупным астероидом 4) кометой 0,5

Критерии оценивания: за правильный ответ - 0,5 балла.

**9. Какое утверждение неверно?**

- 1) Лес — защитник почвы; 2) Лесов так много, что вырубить их все невозможно 0,5  
3) Лес очищает воздух 4) Лес защищает почву от разрушения.

Критерии оценивания: за правильный ответ - 0,5 балла.

**10. Что является основным занятием людей в тундре?**

- 1) растениеводство; 2) рыболовство; 3) оленеводство 0,5

Критерии оценивания: за правильный ответ - 0,5 балла.

**11. На каком материке находится наша страна:**

2010

1) Европа 2) Азия 3) Северная Америка 4) Евразия 0,5

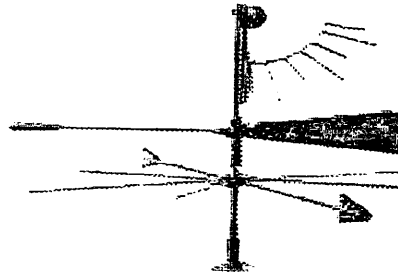

Критерии оценивания: за правильный ответ - 0,5 балла.

12. Первым кругосветное путешествие совершила экспедиция:

1) Х. Колумба; 2) Ф. Магеллана; 3) Васко да Гамы; 4) Афанасий Никитин

Критерии оценивания: за правильный ответ - 0,5 балла.

13. Этот простой метеорологический прибор называется (1), с его помощью можно измерить (2).



- А) 1 – флюгер, 2 – угол;
- Б) 1 – стрелка, 2 – направление;
- В) 1 – флюгер, 2 – направление, скорость;
- Г) 1 – анемометр, 2 – силу.

1

Критерии оценивания: за правильный ответ – 1 балл.

14. В какой природной зоне могли быть сделаны представленные фотографии.

Запишите название природной зоны.



Ответ: Тундра 1

Критерии оценивания: за правильный ответ – 1 балл.

15. Установите соответствие между названиями природных зон и географическими особенностями, которые характерны для каждой из них.

**ГЕОГРАФИЧЕСКИЕ ОСОБЕННОСТИ**

**ПРИРОДНЫЕ ЗОНЫ**

- А) расположена в умеренном поясе Северного полушария; 1) тундра
- Б) растительность скудная; 2) тайга
- В) занимает обширные районы крайнего севера России;
- Г) растут сосны, ели, пихта;
- Д) большое количество мхов и лишайников;
- Е) местообитание лисы, зайца, куропатки, белки и др.

2010


Запишите в таблицу выбранные цифры под соответствующими буквами. 1

| А  | Б   | В | Г   | Д   | Е    |
|----|-----|---|-----|-----|------|
| 1) | 1 + | 2 | 2 + | 1 + | 2) + |

Критерии оценивания: за правильный ответ – 2 балла.

16. В различных уголках мира обитают нелетающие птицы. Установите соответствия: «изображение нелетающей птицы – её название – ареал обитания».

- 1) африканский страус 2) нанду 3) киви 4) казуары 5) императорский пингвин



I) Антарктида

II) Африка

III) Новая Зеландия

IV) Австралия

V) Южная Америка

Ответ: I - 0,5, II - 0,5, III - 0,5, IV - 0,5, V - 0,5, 2

Критерии оценивания: за правильный ответ - 5 баллов.

2010

Всероссийская олимпиада по географии  
2024/25 учебный год  
Школьный этап

**Задания для участников 5-6 класса**

**Инструкция по выполнению работы**

Время, отведенное на выполнение заданий обоих туров – 90 минут

Максимальное количество баллов за оба тура – 50.

Внимательно прочитайте каждое задание.

Ответ записывайте разборчиво.

Примечание. Не разрешается пользоваться школьными атласами и другими источниками информации.

Шифр ГЕО 3

**ЗАДАНИЯ ТЕОРЕТИЧЕСКОГО ТУРА**

Общее количество баллов – 35 баллов

*Итого: 16,5 + 25,5 = 42*

| Задание                    | 1 | 2   | 3 | 4 | 5  | 6 | Итого |
|----------------------------|---|-----|---|---|----|---|-------|
| Максимальное кол-во баллов | 2 | 3   | 3 | 3 | 22 | 2 | 35    |
| Оценка участника           | 0 | 1,5 | 2 | 2 | 10 | 1 | 16,5  |

**Задание 1.**

Существуют ли на Земле точки, для определения, местонахождения которых достаточно определить только широту? Если да, то назовите их.

Ответ: \_\_\_\_\_

*Критерии оценивания: за правильный ответ – 2 балла.*

**Задание 2.**

Исправьте географические ошибки

*1,5*

1. Город Мадагаскар остров Мадагаскар ; 4. Аравийский залив \_\_\_\_\_ ;  
 2. Ладожское море Ладожское озеро ; 5. Остров Гималаи \_\_\_\_\_ ;  
 3. Озеро Амазонка Река Амазонка ; 6. Красное озеро Красное море .+

*Критерии оценивания: за каждый верный ответ - 0,5 балла. Всего – 3 балла.*

**Задание 3.**

К какому понятию принадлежат следующие ассоциации:

*2*

- Волна, землетрясение, опасность, скорость, бедствие цунами +  
 Скалы, пороги, зрелище, грохот, вода бычок -  
 Океан, лёд, гора, опасность Альпс +

*Критерии оценивания: за каждый верный ответ - 1 балл. Всего – 3 балла.*

**Задание 4.**

Один невнимательный ученик на плане местности обозначил зеленым цветом следующие объекты:

а) лес; б) луг; в) пристань на реке; г) заросли кустарника; д) водяную мельницу.

2. Какие объекты надо обозначить другим цветом? Каким? (Минимум 4 реке: цвет: голубой) / Водяной мельнице (цвет: синий)  
 Критерии оценивания: за каждый верный ответ - 1 балл. Всего - 3 балла.

**Задание 4.** Прочитайте текст о географических рекордах материков нашей планеты и замените пропуски, обозначенные числами, на слова (словосочетания) или числа. Словами (словосочетаниями) в ответах могут быть географические названия, термины и понятия. Числовые ответы запишите цифрами, округлив до целого числа.

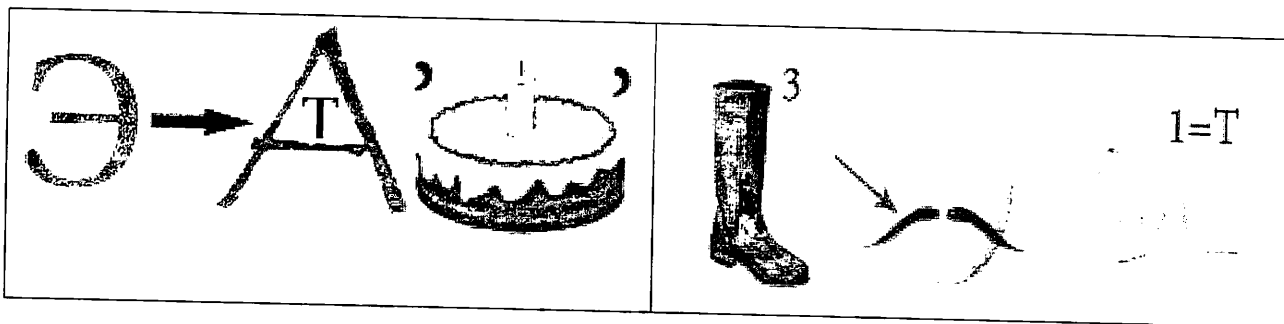
На нашей планете шесть материков, и каждый из них обладает своими географическими особенностями и рекордами.

На самом большом по площади континенте Земли в горах (1) находится наивысшая точка планеты с высотой (2) метров над уровнем моря и самая низкая отметка суши – уровень (3) моря, которое на самом деле является озером. На этом же континенте располагаются самое большое по площади озеро мира – (4) море и самое глубокое в мире озеро – (5). Эти озёра находятся в самой большой по площади стране мира – (6). Самая длинная в мире река – (7), протекает по территории четвертого по площади континента планеты. Долгое время самой длинной рекой считался (8), протекающий по территории самого жаркого материка Земли. Но самая высокая температура воздуха на планете зарегистрирована в (9), которая расположена на третьем по площади материке планеты. Самая низкая температура воздуха отмечена на материке (10). От ближайшего к нему континента он отделён самым широким проливом в мире под названием пролив (11).

| № | Ответы                 | №  | Ответы       |
|---|------------------------|----|--------------|
| 1 | Евразия -              | 7  | Амазонка +   |
| 2 | 2000м -                | 8  | Нил +        |
| 3 | 100м -                 | 9  | Америка      |
| 4 | Байкал / Чёрное        | 10 | Антарктида + |
| 5 | Вайнал +               | 11 |              |
| 6 | Российский Федерация + |    |              |

Критерии оценивания: за каждый верный ответ - 2 балла. Всего - 22 балла.

**Задание 6.** Максимальная оценка 2 балла (за каждый верный ответ 1 балл). Отгадайте географические ребусы?



1. Ответ: Эльмат +

машина -

Критерии оценивания: за каждый верный ответ - 1 балл. Всего - 2 балла.

## ЗАДАНИЯ ТЕСТОВОГО ТУРА

Общее количество баллов – 15 баллов

| Задание                    | 1   | 2   | 3   | 4   | 5   | 6   | 7   | 8   | Итого |
|----------------------------|-----|-----|-----|-----|-----|-----|-----|-----|-------|
| Максимальное кол-во баллов | 0,5 | 0,5 | 0,5 | 0,5 | 0,5 | 0,5 | 0,5 | 0,5 |       |
| Оценка участника           | 0,5 | 0   | 0,5 | 0,5 | 0,5 | 0,5 | 0,5 | 0,5 | 3,5   |
| Задание                    | 9   | 10  | 11  | 12  | 13  | 14  | 15  | 16  | Итого |
| Максимальное кол-во баллов | 0,5 | 0,5 | 0,5 | 0,5 | 1   | 1   | 2   | 5   | 15    |
| Оценка участника           | 0,5 | 0,5 | 0,5 | 0   | 1   | 1   | 1   | 1   | 5,5   |

### 1. Что изучают естественные науки?

- 1) образ жизни людей    2) историю цивилизаций    0,5  
 3) экономику страны    4) природу окружающего мира

Критерии оценивания: за правильный ответ - 0,5 балла.

### 2. Воображаемая прямая, проходящая через центр Земли, вокруг которой происходит суточное вращение Земли:

- 1) полярный круг; 2) земная ось; 3) экватор; 4) северный полюс.

Критерии оценивания: за правильный ответ - 0,5 балла.

### 3. Днём и ночью, в любую погоду верным путеводителем является компас. Где появился первый компас?

- 1) в Японии; 2) в Индии; 3) в Испании; 4) в Китае.    0,5

Критерии оценивания: за правильный ответ - 0,5 балла.

### 4. Назовите сторону горизонта, противоположную северо-востоку:

- 1) юго-восток; 2) юго-запад; 3) северо-запад; 4) север    0,5

Критерии оценивания: за правильный ответ - 0,5 балла.

### 5. Какая природная зона описана в тексте?

«Лето тёплое, но зима суровая, преобладают хвойные растения, так как они менее требовательны к теплу. Животный мир разнообразен».

- 1) тундра    2) тайга    3) пустыня    4) арктическая пустыня    0,5

Критерии оценивания: за правильный ответ - 0,5 балла.

### 6. Какое озеро России включено в список объектов Всемирного природного наследия?

- 1) Ладожское    2) Байкал    3) Каспийское    4) Онежское    0,5

Критерии оценивания: за правильный ответ - 0,5 балла.

### 7. Ближайшими к Земле планетами Солнечной системы являются:

- 1) Сатурн и Юпитер;    2) Марс и Венера;    0,5  
 3) Юпитер и Марс;    4) Венера и Меркурий

Критерии оценивания: за правильный ответ - 0,5 балла.

### 8. Чем является Солнце в Солнечной системе?

- 1) звездой    2) планетой    3) крупным астероидом    4) кометой    0,5

Критерии оценивания: за правильный ответ - 0,5 балла.

### 9. Какое утверждение неверно?

- 1) Лес — защитник почвы    2) Лесов так много, что вырубить их все невозможно  
 3) Лес очищает воздух    4) Лес защищает почву от разрушения.    0,5

Критерии оценивания: за правильный ответ - 0,5 балла.

### 10. Что является основным занятием людей в тундре?

- 1) растениеводство; 2) рыболовство; 3) оленеводство    0,5

Критерии оценивания: за правильный ответ - 0,5 балла.

### 11. На каком материке находится наша страна:

1) Европа 2) Азия 3) Северная Америка 4) Евразия 0,5

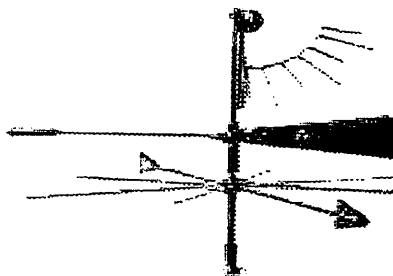

Критерии оценивания: за правильный ответ - 0,5 балла.

12. Первым кругосветное путешествие совершила экспедиция:

1) Х. Колумба; 2) Ф. Магеллана; 3) Васко да Гамы; 4) Афанасий Никитин

Критерии оценивания: за правильный ответ - 0,5 балла.

13. Этот простой метеорологический прибор называется (1), с его помощью можно измерить (2).





- А) 1 – флюгер, 2 – угол;  
 Б) 1 – стрелка, 2 – направление;  
 В) 1 – флюгер, 2 – направление, скорость;  
 Г) 1 – анемометр, 2 – силу.

1

Критерии оценивания: за правильный ответ – 1 балл.

14. В какой природной зоне могли быть сделаны представленные фотографии.

Запишите название природной зоны.



Ответ: тундра

Критерии оценивания: за правильный ответ – 1 балл.

15. Установите соответствие между названиями природных зон и географическими особенностями, которые характерны для каждой из них.

#### ГЕОГРАФИЧЕСКИЕ ОСОБЕННОСТИ

#### ПРИРОДНЫЕ ЗОНЫ

- А) расположена в умеренном поясе Северного полушария;  
 Б) растительность скудная;  
 В) занимает обширные районы крайнего севера России;  
 Г) растут сосны, ели, пихта;  
 Д) большое количество мхов и лишайников;  
 Е) местообитание лисы, зайца, куропатки, белки и др.

Запишите в таблицу выбранные цифры под соответствующими буквами.

| А | Б | В | Г | Д | Е |
|---|---|---|---|---|---|
| 2 | 1 | 1 | 2 | 1 | 2 |



Критерии оценивания: за правильный ответ – 2 балла.

16. В различных уголках мира обитают нелетающие птицы. Установите соответствия: «изображение нелетающей птицы – её название – ареал обитания».

- 1) африканский страус 2) нанду 3) киви 4) казуары 5) императорский пингвин



ГЕО3



I) Антарктида

II) Африка

III) Новая Зеландия

IV) Австралия

V) Южная Америка

Ответ: ~~АБ-I~~, ~~АВ-I~~<sup>5</sup>, ~~БЗ-IV~~, ~~ВГ-II~~, ~~БД-III~~, ~~ГД-IV~~ 1

Критерии оценивания: за правильный ответ – 5 баллов.

Всероссийская олимпиада по географии  
2024/25 учебный год  
Школьный этап

**Задания для участников 11 класса**

Время, отведенное на выполнение заданий обоих туров – 90 минут

Максимальное количество баллов за оба тура – 100.

Внимательно прочитайте каждое задание. Ответ записывайте разборчиво.

**Примечание.** Не разрешается пользоваться школьными атласами и другими источниками информации.

Шифр ге035

~~415~~  
415

**Часть 1 – тестовый тур**

**1. Укажите государство, к которому относятся Фарерские острова:**

- а) Португалия;
- б) Испания;
- в) Дания;
- г) Швеция.

Ответ: б

Критерии оценивания: за правильный ответ - 1 балл.

**2. Определите страну по ее краткому описанию.**

В этой стране железнодорожный транспорт получил развитие достаточно давно, и сегодня не играет ведущей роли, но по показателям его работы, например, по грузообороту, страна прочно лидирует в мире. Страна также лидирует по протяженности сети железных дорог, однако доля электрифицированных дорог крайне мала, и составляет всего 1%.

- а) Россия;
- б) Канада;
- в) Китай;
- г) США;
- д) Германия.

Ответ: в

Критерии оценивания: за правильный ответ - 1 балл.

**3. Выберите вариант, в котором присутствуют только страны – абсолютные монархии:**

- а) Великобритания, Дания, Испания;
- б) ОАЭ, Катар, Оман;
- в) Германия, Австрия, Индия;
- г) США, Франция, Россия.

Ответ: б

Критерии оценивания: за правильный ответ - 1 балл.

**4. Укажите остров, на котором находятся территория формально одного государства, а фактически - двух государств:**

- а) Тимор;
- б) Калимантан;
- в) Кипр;
- г) Крымский;
- д) Ирландия.

Ответ: д

Критерии оценивания: за правильный ответ - 1 балл.

5. В какой из стран столица не является крупнейшим городом своей страны?

- а) Египет
- б) Франция
- в) Чехия
- г) Аргентина
- д) Швейцария

Ответ: д

Критерии оценивания: за правильный ответ - 1 балл.

6. Выберите группу стран с самым высоким естественным приростом населения:

- а) КНДР, США, Австралия, Япония;
- б) Испания, Сан-Марино, Словакия, Россия;
- в) Латвия, Сербия, Болгария, Украина;
- г) Нигер, Уганда, Малави, Бурунди.

Ответ: г

Критерии оценивания: за правильный ответ - 1 балл.

7. Выберите группу стран с минимальным уровнем урбанизации в мире:

- а) Бельгия, Венесуэла, Великобритания, Австралия;
- б) Бурунди, Малави, Уганда, Кения;
- в) Чехия, Россия, Болгария, Швейцария;
- г) Германия, Белоруссия, Греция, Испания.

Критерии оценивания: за правильный ответ - 1 балл.

8. Выберите вариант, в котором представлены только самые крупнейшие морские порты мира:

- а) Нагоя, Хьюстон, Антверпен, Тоба;
- б) Гамбург, Сан-Луис, Ванкувер, Иокогама;
- в) Амстердам, Хошимин, Ричардс-Бей, Кобе;
- г) Шанхай, Сингапур, Тяньцзинь, Гуанчжоу.

Критерии оценивания: за правильный ответ - 1 балл.

9. Определите страну по ее краткому описанию.

Эта страна входит в десятку крупнейших в мире по площади и по населению. Страна имеет большую долю обрабатываемых земель и благоприятные агроклиматические условия. Большая часть расположена в пределах докембрийской плиты. Недра страны богаты месторождениями железных, медных, марганцевых, вольфрамовых руд, бокситов, хромитов, слюды, золота, алмазов, редких и драгоценных камней, а также каменного угля, нефти и газа. Приморская полоса восточного побережья местами заболочена. Большая доля водных ресурсов приходится на две крупных реки, протекающих на севере страны и общую дельту, занимающую площадь свыше 80 тыс. км<sup>2</sup>. Слабо расчленённые, низкие, песчаные берега почти не имеют удобных естественных гаваней, поэтому крупные порты расположены либо в устьях рек, либо устроены искусственно. Почти 70% жителей страны проживают в сельских регионах, хотя за последние десятилетия миграция в большие города привела к резкому увеличению городского населения.

Ответ: Страна Бразилия

Крупнейшая река

Критерии оценивания: за каждый правильный ответ - 1 балл, всего - 2 балла.

10. В таблице приведены данные по запасам и добыче природного газа в России в 2015 г. (млрд.м<sup>3</sup>) по крупнейшим разрабатываемым месторождениям. Определите два месторождения, являющимися лидерами по показателю ресурсообеспеченности

| Месторождение | Запасы | Добыча | Ресурсообеспеченность |
|---------------|--------|--------|-----------------------|
|---------------|--------|--------|-----------------------|

Земля Дракона

Республика Сингапур

|              |      |      |      |
|--------------|------|------|------|
| Уренгойское  | 5370 | 89,7 | 1,6  |
| Заполярное   | 2274 | 79,3 | 3,5  |
| Ямбургское   | 3057 | 61,8 | 2,2  |
| Астраханское | 3076 | 11,1 | 0,36 |
| Медвежье     | 556  | 7,6  | 1,9  |

Ответ: 1 место Медвежье — 2 место Заполярное —  
 Критерии оценивания: за каждый правильный ответ - 1 балл, всего - 2 балла.


**11. Какая страна из предложенного списка омывается водами только одного океана?**

- а) Египет
- б) Израиль
- в) Колумбия
- г) Марокко
- д) Таиланд

Ответ: б)  
 Критерии оценивания: за правильный ответ - 1 балл.

**12. Прочитайте описание. Назовите страну.**

Этот флаг был официально принят в 1969 году. Он диагонально разделен на две части: верхняя левая часть – желтого цвета, а нижняя правая часть – оранжевого цвета. Посередине флага страны находится эмблема белого дракона, смотрящего направо. Дракон держит драгоценности в своих когтях, что обозначает богатство государства. Изображённый на флаге дракон символизирует местное наименование страны – Земля Дракона. Рычащий рот дракона представляет собой силу народа, защищающего свою страну. Оранжевый цвет обозначает монастыри и религию местную религию, а оранжево-желтый цвет символизирует светскую власть монарха. Белый цвет обозначает чистоту и преданность.



- а) Непал
- б) Бутан
- в) Бруней
- г) Камбоджа
- д) Япония

Ответ: Страна Бруней  
 Критерии оценивания: за правильный ответ - 2 балла.

**13. Найдите по одному лишнему слову в каждом варианте, характеризующем отдельную страну:**

- а) Беларусь: зубр, полесье, картофель, МАЗы, золото, Днепр;
- б) Италия: мода, НАТО, Рурский бассейн, туризм, рыба, Фиат, Сардиния.

Ответ: золото, Рурский бассейн +  
 Критерии оценивания: за каждый правильный ответ - 1 балл, всего - 2 балла.

**14. Выберите показатели, которые характерны и для Бразилии, и для Индии:**

- а) входят в десятку крупнейших стран по численности населения ✓
- б) слабоурбанизированные страны ✓
- в) федеративные республики
- г) входят в пятёрку стран-лидеров по добыче железной руды
- д) высокая грамотность населения
- е) являются членами БРИКС ✓
- ж) крупнейшие экспортеры судов ✓

з) отраслью специализации является нефтяная промышленность

Запишите буквы, под которыми указаны все правильные варианты ответа.

Ответ: а б е и 25

Критерии оценивания: за каждый правильный ответ - 1 балл, всего - 4 балла.

15. Выберите из предложенного списка термины, обозначающие местные ветры.

а) фригана ✓

б) мистраль ✓

в) буря ✓

г) падун

д) хабуб

е) гало

ж) верховик ✓

з) сюрин

и) сирокко

к) пассат ✓

Запишите буквы, под которыми указаны все правильные варианты ответа.

Ответ: а б в и к 35

Критерии оценивания: за каждый правильный ответ - 1 балл, всего - 5 баллов.

16. Почитайте отрывок из сказки С. Лагерлеф «Чудесное путешествие Нильса с дикими гусями». Почему путешественники никак не могли дождаться наступления ночи?

«... А солнце катилось по небу и уставало светить.

– Не понимаю, – сказал Мартин, – летим, летим, а вечер так все никак не наступит. До чего же спать хочется!

– И мне спать хочется! – сказала Марта. – Глаза слипаются.

– Да и я бы не прочь вздремнуть, – сказал Нильс.

– Смотри, смотри, Мартин, вон аисты на болоте спят. Тут, в Лапландии, все по-другому. Может, здесь вместо луны всю ночь солнце светит?»

Ответ: Так называемая Лапландия находится за Северным полярным кругом; значит путешественники оказались в

Критерии оценивания: за правильный ответ - 2 балла.

днем ночи 25

17. Определите субъект Российской Федерации по его описанию:

Данный субъект расположен в восточной части страны, его территория омывается водами Мирового океана. По его территории протекает одна из крупнейших рек России. На этой реке есть ГЭС, в регионе отсутствуют АЭС, но работают мощные ТЭС на топливе, в основном добываемом в этом же субъекте.

а) Хабаровский край; ✓

б) Красноярский край;

в) Забайкальский край;

г) Чукотский автономный округ;

д) Иркутская область.

Ответ: а

Критерии оценивания: за правильный ответ - 2 балла.

18. Для какого города указано НЕ ПРАВИЛЬНОЕ расположение на берегу реки?

а) Барнаул – Обь;

б) Якутск – Лена; ✓

в) Иркутск – Ангара; ✓

г) Пермь – Волга; ✓

д) Хабаровск – Амур; ✓

Ответ: б

Критерии оценивания: за правильный ответ - 2 балла.

19. Как звали погибшего хантыйского князя, в честь которого назван исторический район города

Столица Ханты – Мансийского автономного округа – Югры – город Ханты – Мансийск. Ровно 430 лет назад здесь произошло важное историческое событие: небольшой отряд атамана Ермака под предводительством Богдана Брязги подошёл на лодках к хантыйскому поселению. Между казаками и ханты произошло сражение. Но казаки пошли на хитрость: они смастерили чучела людей и посадили их в лодки. Стрелы ханты со звоном отскакивали от чучел. В результате князь хантыйского поселения погиб, а все жители присягнули на верность московскому царю. Самар.

Ответ: Самар

Критерии оценивания: за правильный ответ - 4 балла.

†

### Часть 2 – теоретический тур

**Задание 1. Вставьте пропущенные слова в данный текст описания одной из стран мира.**

Рельеф страны преимущественно горный, горы занимают 71% территории, имеются многочисленные действующие и потухшие вулканы в том числе и высшая точка страны – \_\_\_\_\_ (на острове \_\_\_\_\_, высотой 3776 м). Полезными ископаемыми бедна, практическое значение имеют лишь запасы каменного угля. Добывается также сера, йод, золото и серебро.

На севере страна омывается \_\_\_\_\_ морем, на западе \_\_\_\_\_ морем, на юго-западе – Ионическим морем, на востоке – Атлантическим океаном.

Климат большей части территории – субтропический муссонный, на севере – умеренный, на юге – тропический. Свыше 2/3 занято лесами: на севере – хвойными, в центральной части – широколиственными и на юге – субтропическими вечнозелеными.

Является развитой страной, значительную долю в экономике занимает сфера услуг. По объему промышленного производства занимает одно из первых мест в мире. В обрабатывающей промышленности наиболее развиты машиностроение (производство автомобилей, электроники и электротехники, судов, станков), чёрная металлургия, химическая, текстильная и пищевая промышленность. Основным средством передвижения является автотранспорт, использующий лево† стороннее движение.






По форме правления страна является абсолютной монархией во главе с \_\_\_\_\_. Население практически однородное, лишь на севере острова \_\_\_\_\_ проживают \_\_\_\_\_. В стране проживает 126 млн. человек (в 2018 г.), и по этому показателю она находится на 12 месте в мире. Большинство верующих – буддисты† и \_\_\_\_\_, причем, обычно исповедуют сразу две религии. Столицей страны является город Токио †. В пределах столичной агломерации проживают 35 млн. человек (2017 г.).

Критерии оценивания: за каждый правильный ответ - 1 балл, всего - 16 баллов.

**Задание 2.** Вам предлагаются описания и изображения некоторых форм рельефа, различных по своему происхождению и геоморфологических (геоморфология – наука о происхождении и формах рельефа) процессов и явлений. Выберите из предложенных списков эти формы рельефа или процессы и впишите в соответствующую колонку таблицы.

I. **Формы рельефа:** столовые горы, старица, атолл, бугры пучения, фиорд (фьорд),

| № | Описание формы рельефа | Название |
|---|------------------------|----------|
|---|------------------------|----------|

| №  | Описание формы рельефа  | Название                      |
|----|---|-------------------------------|
| 1. | <p>Кольцевой коралловый риф, морфологически представляющий собой узкую гряду с замкнутой (или полузамкнутой) внутри лагуной. Размеры их различны – от нескольких километров до нескольких десятков километров. Есть поднятые (остров Науру) и погруженные (банка Робби) вследствие тектонических движений их оснований.</p>  <p>Большинство концентрируются в Индо-Тихоокеанском тропическом поясе, однако известны они и в Атлантике, например, в Карибском море и у побережья Бразилии.</p>  | <p>атолл</p> <p>+</p>         |
| 2. | <p>Формы рельефа, образующиеся при промерзании переувлажненных грунтов. Широко распространены в тундре и тайге. Подобный вид, но более крупные размеры (около 100 м в поперечнике и до 20 м высоты) имеют гидролакколиты и булгуньяхи в Якутии.</p>    | <p>булгуньяха</p> <p>+</p>    |
| 3. | <p>Старое отделившееся русло реки в излучине, превратившееся в озеро. Впоследствии в таких местах образуются сырые ложбины.</p>   | <p>эстакада</p> <p>+</p>      |
| 4. | <p>Платообразные горные сооружения с усеченной, плоской вершиной. Как правило, сложены из осадочных горных пород. Склоны такой горы обычно крутые, почти отвесные. В разрезе этот вид геологических образований имеет продолговатую форму, то есть в одном из направлений плато на вершине горы вытянуто. Своей усеченной в верхней части формой обязаны процессам денудации – эрозии и выветриванию. Одной из разновидностей являются те горы, у которых их плоская вершина сложена не из осадочных пород, а покрыта затвердевшей вулканической корой из лавы. Такие горы на Гвианском нагорье называются тепуи.</p>  | <p>столовые горы</p> <p>+</p> |
| 5. | <p>Узкий глубокий морской залив с высокими крутыми скалистыми берегами, далеко вдающийся в сушу. Образование таких форм увязывают с внедрением моря в ледниковые долины либо в тектонические разломы. Распространены по берегам Скандинавского п-ова, на Кольском п-ове, Чукотке.</p>    | <p>фьорд</p> <p>+</p>         |

## 2. Процессы: криогенные процессы, аккумуляция, денудация, карст, эоловые процессы.

| №  | Описание геологического процесса  | Название                 |
|----|---|--------------------------|
| 1. | Процессы накопления рыхлого минерального материала и органических остатков на поверхности суши и на дне водоемов. В зависимости от основного фактора, вызывающего этот процесс, выделяют морскую, озерную, речную, ветровую, биогенную, антропогенную и другие типы.  | эоловые процессы<br>-    |
| 2. | Процесс сноса и частичного перемещения продуктов выветривания горных пород под действием разных факторов и агентов (гравитации, воды, ветра и др.).   | денудация<br>+           |
| 3. | Процессы, происходящие в местах распространения многолетней и сезонной мерзлоты, при содержании в грунтах замёрзшей воды. Проявляются в пучении и морозной сортировке грунтов, растрескивании, в создании морозобойных клиньев и т.д.   | криогенные процессы<br>+ |
| 4. | Группа внешних (экзогенных) процессов, связанных с деятельностью ветра. Наиболее активно проявляются в аридных (сухих) условиях. Различают действие с созданием ниш, котлов выдувания и аккумулятивное – с образованием дюн, барханов и др.   | аккумуляция<br>-         |
| 5. | Название этого процесса произошло от одноименного наименования известнякового плато в Словении. Он представляет собой совокупность процессов и явлений, связанных с деятельностью воды и выражающихся в растворении горных пород и образовании в них пустот, а также своеобразных форм рельефа, возникающих на местностях, сложенных сравнительно легко растворимыми в воде горными породами – гипсом, известняком, мрамором, доломитом и каменной солью. | карст<br>+               |

Критерии оценивания: за каждый правильный ответ - 1 балл, всего - 10 баллов.

### Задание 3.

В предложенном тексте в скобках подчеркнуть правильные ответы.

Республика Саха (Якутия) – субъект РФ в (Дальневосточном/Сибирском) федеральном округе; относится к Восточно-(Сибирскому/Дальневосточному) экономическому району. Образован в 1922 г. Административный центр – город Якутск, в котором в 2108 г. проживает (312 тыс. чел./964 тыс. чел.). Граничит с Чукотским АО и Магаданской областью на востоке, с Хабаровским краем на юго-востоке, на юге – с Амурской областью и Забайкальским краем, с на западе граничит с Красноярским краем. Время в республике отличается от московского на (4 / 5 / 6 / 7 / 8) часов. Регион является (первым/вторым) по площади субъектом России. Площадь территории – 3 103,3 тыс. км<sup>2</sup>, что составляет 18,1% территории России. На севере она омывается водами двух морей – (морем Лаптевых/Чукотским морем) и (Восточно-Сибирским морем/Карским морем). На севере в состав Якутии (входит архипелаг Северная Земля/ входят Новосибирские острова).

Всего в Якутии сосредоточено большое количество российских запасов угля. Масштабная угледобыча ведётся в Южно-Якутском (буроугольном/каменноугольном) бассейне. На западе региона возле города (Мирный/Норильск) создана и существует и сегодня очень мощная алмазодобывающая промышленная инфраструктура.

Климат в республике (умеренно/резко) континентальный, характерны сильные колебания температур воздуха в течение года. Разница температур самого холодного месяца — января и самого тёплого — июля составляет 70-75°C. Именно в Якутии находится Полюс холода северного полушария (Оймякон/Верхоянск), где в феврале 1892 г. была зарегистрирована температура (-67,8°C/-89,2°C).

Якутия относится к благополучным по обеспеченности водными ресурсами регионам. Западная часть региона расположена в бассейне реки (Енисей/Лена), восточная – в бассейнах рек Яны, Индигирки и Колымы. Большая часть территории Якутии расположена в зоне (тайги/тундры). Самым


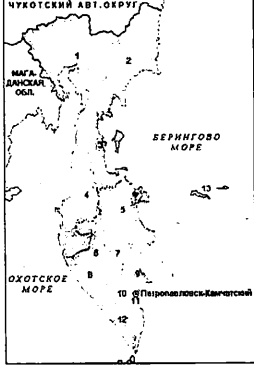




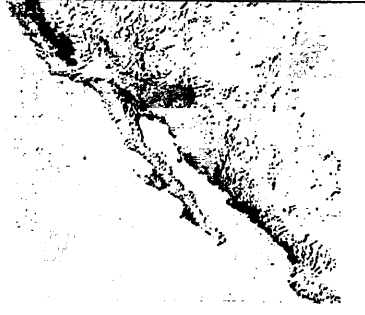


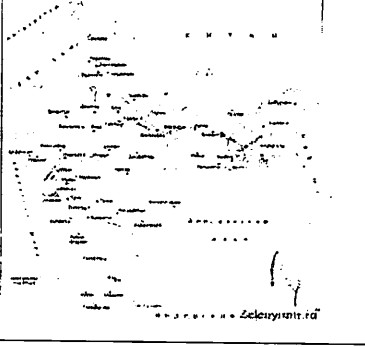
крупным этносом является (якуты/русские), на которых приходится 49,9% населения (по переписи 2010 г.).

Критерии оценивания: за каждый правильный ответ - 1 балл, всего - 16 баллов.

**Задание 4.**

«Определи объект по его изображению». Вам предстоит указать название полуостровов и ответить на вопросы, касающихся каждого из них. Результат занесите в таблицу.

| № | Изображение   | Название объекта             | Особенности объекта   |
|---|---|------------------------------|---|
| 1 |    |                              | <p>Две крупные страны, расположенные на этом полуострове:</p> <p>1. _____;</p> <p>2. _____.</p>   |
| 2 |   | <p>Камчатский полуостров</p> | <p>1. Название океана, в который впадает этот полуостров:<br/> <u>Тихоокеанский</u></p> <p>2. Название региона России, который частично расположен на этом полуострове:<br/>         _____.</p> |
| 3 |  |                              | <p>1. Название страны, в основном располагающейся в границах этого полуострова:<br/> <u>Украина</u> . †</p>   |
| 4 |  |                              | <p>1. Самая крупная страна на полуострове:<br/>         _____.</p> <p>2. Залив на северо-востоке полуострова:<br/> <u>Бискайский</u> . †</p>  |

|    |   |                                    |  |
|----|---|------------------------------------|--|
| 5  |    |                                    | <p>1. К территории какой страны относится полуостров:</p> <p>_____.</p>  |
| 6. |    |                                    | <p>Назовите две страны, территории которых полностью расположены на этом полуострове:</p> <p>1. <u>Норвегия</u> ; +</p> <p>2. <u>Финляндия</u> . -</p> |
| 7. |   |                                    | <p>1. К какой стране относится этот полуостров:</p> <p><u>США</u> . +</p>  |
| 8  |  | <p><u>Индийский полуостров</u></p> | <p>1. Какая страна занимает практически полностью территорию этого полуострова:</p> <p><u>Индия</u> . +</p>  |

Критерии оценивания: за каждый правильный ответ - 1 балл, всего - 20 баллов.

**Задание 5.**

**Ответьте на вопрос**

На тюменской земле берут старт мощные нефте- и газопроводы. Стальные артерии связали нас с центром страны, Волгой и Дунаем, пересекли государственные границы. Какие из них были самые первые, а какие самые длинные?

Критерии оценивания: за каждый правильный ответ - 1 балл, всего - 2 балла.